

VERIFICA DI GEOGRAFIA

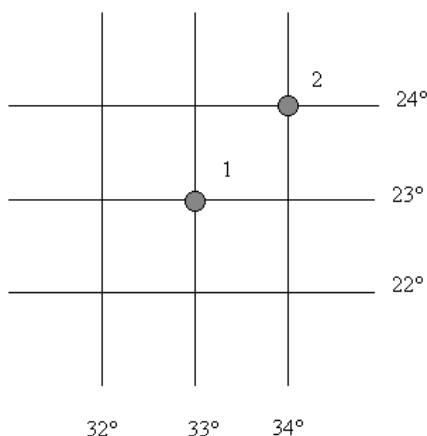
Coordinate geografiche

NOME

CLASSE

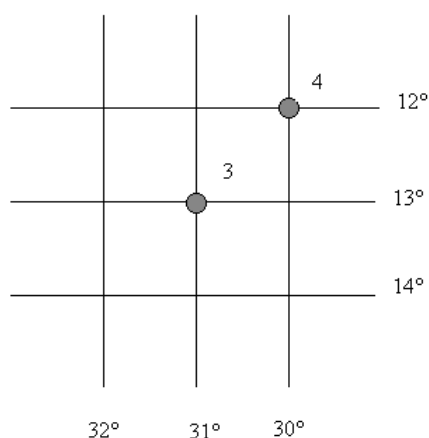
DATA

1) Osserva l'immagine e rispondi alle domande:



- | | | |
|---|--------------------------|--------------------------|
| I due punti si trovano a nord dell'Equatore..... | V | F |
| I due punti si trovano a nord del Circolo polare artico | <input type="checkbox"/> | <input type="checkbox"/> |
| Il punto 1 si trova a nord del punto 2 | <input type="checkbox"/> | <input type="checkbox"/> |
| I due punti si trovano nell'Emisfero Australe..... | <input type="checkbox"/> | <input type="checkbox"/> |
| I due punti si trovano a est di Greenwich..... | <input type="checkbox"/> | <input type="checkbox"/> |
| Il punto 1 è più vicino al Polo Nord del punto 2 | <input type="checkbox"/> | <input type="checkbox"/> |
| Il punto 1 è più vicino a Greenwich del punto 2 | <input type="checkbox"/> | <input type="checkbox"/> |
| Il punto 1 è 30 primi a sud del punto 2 | <input type="checkbox"/> | <input type="checkbox"/> |

2) Osserva l'immagine e rispondi alle domande:



- | | | |
|---|--------------------------|--------------------------|
| I due punti si trovano a nord dell'Equatore..... | V | F |
| I due punti si trovano a sud del tropico del Capricorno | <input type="checkbox"/> | <input type="checkbox"/> |
| Il punto 3 si trova a nord del punto 4 | <input type="checkbox"/> | <input type="checkbox"/> |
| I due punti si trovano nell'Emisfero Australe..... | <input type="checkbox"/> | <input type="checkbox"/> |
| I due punti si trovano a est di Greenwich..... | <input type="checkbox"/> | <input type="checkbox"/> |
| Il punto 3 è più vicino al Polo Sud del punto 4 | <input type="checkbox"/> | <input type="checkbox"/> |
| Il punto 3 è più vicino a Greenwich del punto 4 | <input type="checkbox"/> | <input type="checkbox"/> |
| Il punto 3 è 60 primi a sud del punto 4 | <input type="checkbox"/> | <input type="checkbox"/> |

3) Rispondi alle seguenti domande:

- | | | |
|---|--------------------------|--------------------------|
| Il meridiano di Greenwich è il meridiano 180 | V | F |
| Il parallelo 20N ha dimensioni maggiori del parallelo 30N | <input type="checkbox"/> | <input type="checkbox"/> |
| Il meridiano 20E ha dimensioni minori del meridiano 30E | <input type="checkbox"/> | <input type="checkbox"/> |
| Il Tropico del Capricorno è più vicino al Polo Nord rispetto del Circolo Polare Antartico | <input type="checkbox"/> | <input type="checkbox"/> |
| Il Tropico del Cancro si trova nell'Emisfero Nord | <input type="checkbox"/> | <input type="checkbox"/> |

Voto

VERIFICA DI GEOGRAFIA

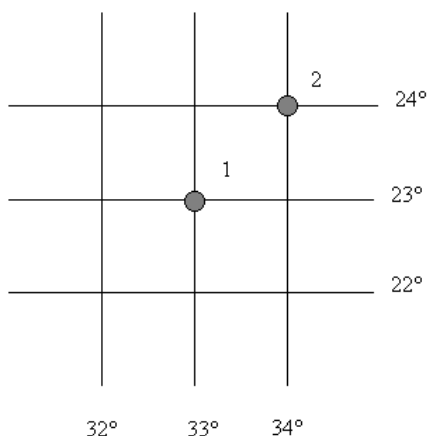
Coordinate geografiche

NOME

CLASSE

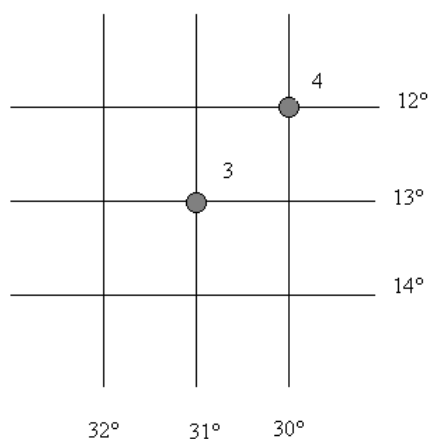
DATA

1) Osserva l'immagine e rispondi alle domande:



- | | V | F |
|---|-------------------------------------|-------------------------------------|
| I due punti si trovano a nord dell'Equatore..... | <input checked="" type="checkbox"/> | <input type="checkbox"/> |
| I due punti si trovano a nord del Circolo polare artico | <input type="checkbox"/> | <input checked="" type="checkbox"/> |
| Il punto 1 si trova a nord del punto 2 | <input type="checkbox"/> | <input checked="" type="checkbox"/> |
| I due punti si trovano nell'Emisfero Australe | <input type="checkbox"/> | <input checked="" type="checkbox"/> |
| I due punti si trovano a est di Greenwich..... | <input checked="" type="checkbox"/> | <input type="checkbox"/> |

2) Osserva l'immagine e rispondi alle domande:



- | | V | F |
|---|-------------------------------------|-------------------------------------|
| I due punti si trovano a nord dell'Equatore..... | <input type="checkbox"/> | <input checked="" type="checkbox"/> |
| I due punti si trovano a sud del tropico del Capricorno | <input type="checkbox"/> | <input checked="" type="checkbox"/> |
| Il punto 3 si trova a nord del punto 4 | <input type="checkbox"/> | <input checked="" type="checkbox"/> |
| I due punti si trovano nell'Emisfero Australe..... | <input checked="" type="checkbox"/> | <input type="checkbox"/> |
| I due punti si trovano a est di Greenwich..... | <input type="checkbox"/> | <input checked="" type="checkbox"/> |

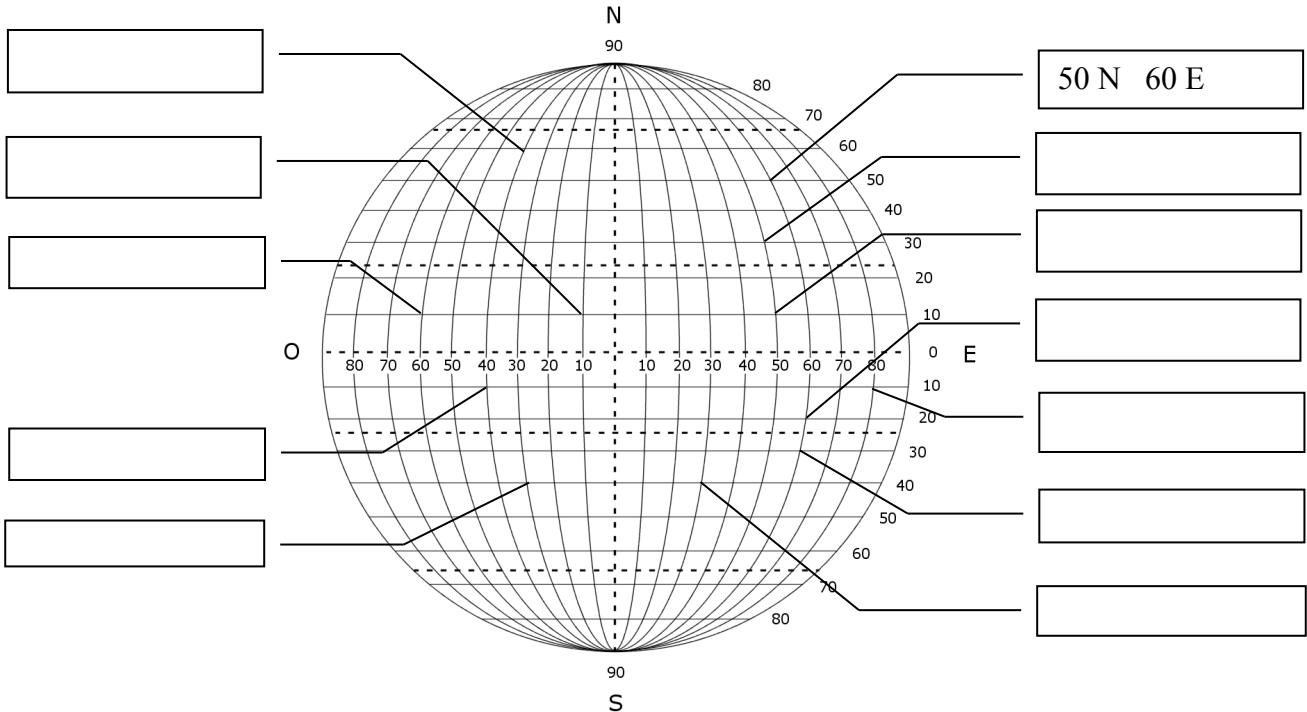
3) Rispondi alle seguenti domande:

- | | V | F |
|---|-------------------------------------|-------------------------------------|
| Il meridiano di Greenwich è il meridiano 180 | <input type="checkbox"/> | <input checked="" type="checkbox"/> |
| Il parallelo 20N ha dimensioni maggiori del parallelo 30N | <input type="checkbox"/> | <input checked="" type="checkbox"/> |
| Il meridiano 20E ha dimensioni minori del meridiano 30E | <input type="checkbox"/> | <input checked="" type="checkbox"/> |
| Il Tropico del Capricorno è più vicino al Polo Nord rispetto del Circolo Polare Antartico | <input checked="" type="checkbox"/> | <input type="checkbox"/> |
| Il Tropico del Cancro si trova nell'Emisfero Nord | <input type="checkbox"/> | <input checked="" type="checkbox"/> |

Voto

Coordinate geografiche

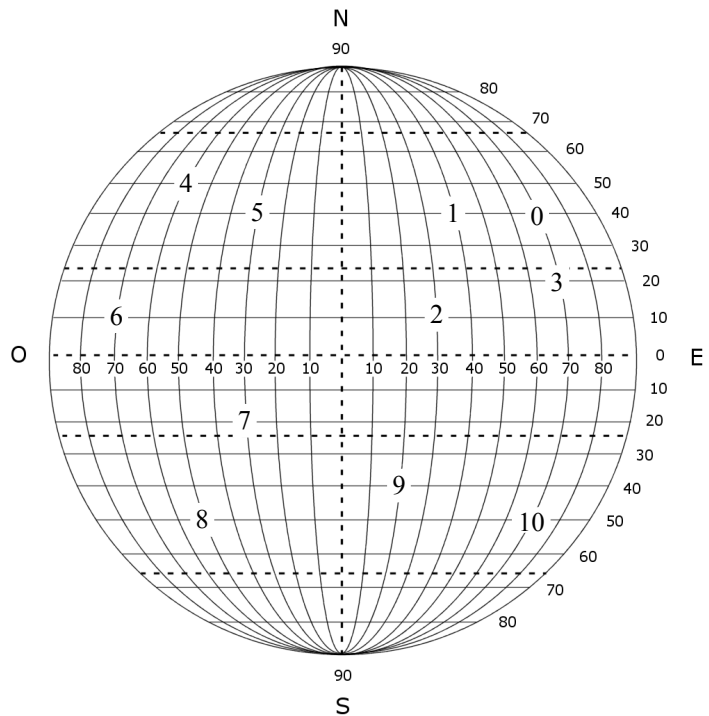
Indica le coordinate dei seguenti punti:



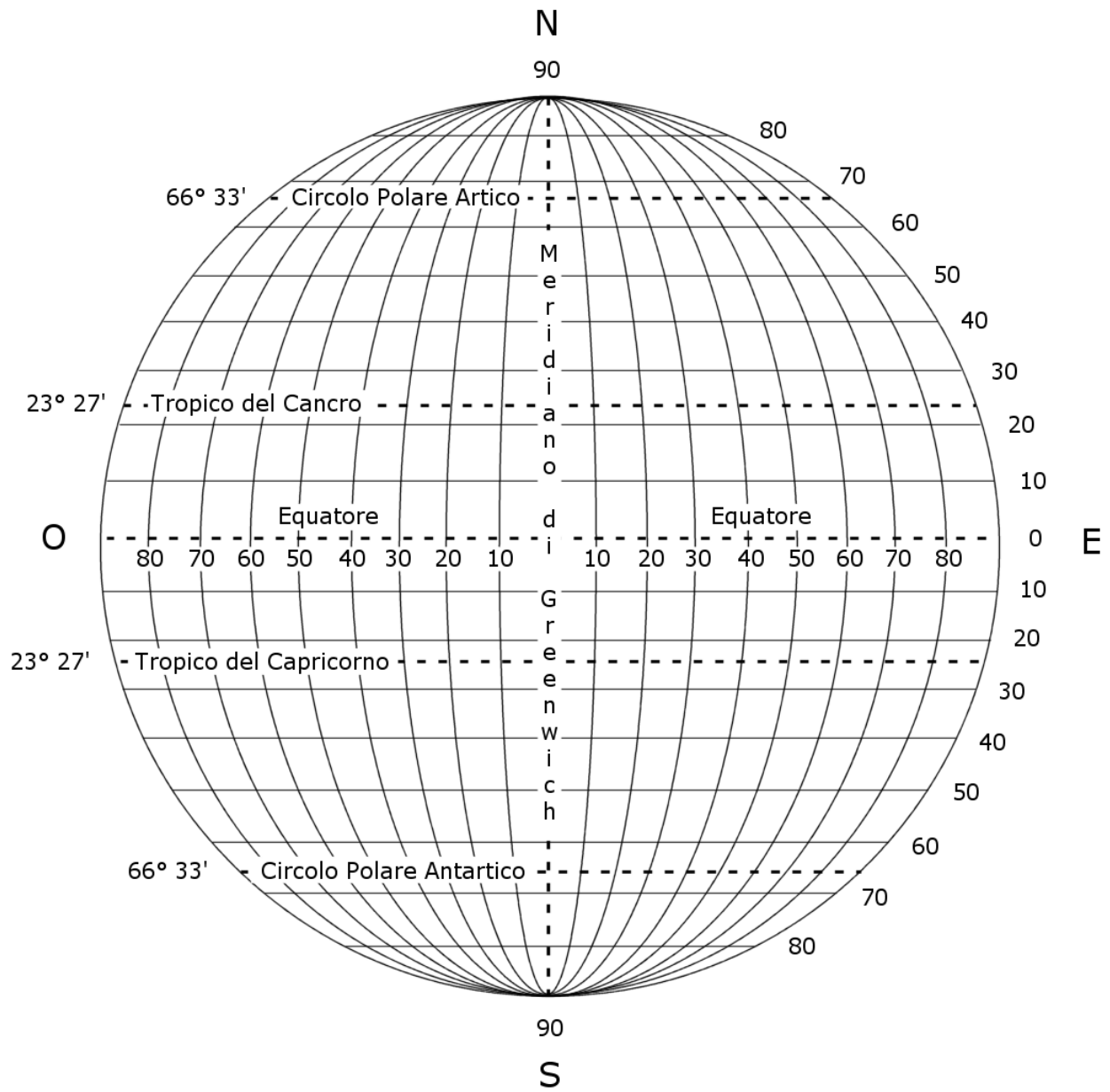
Indica i seguenti punti:

0.40 N 70 E

- 1.
- 2.
- 3.
- 4.
- 5.
- 6.
- 7.
- 8.
- 9.
- 10.



Meridiani e paralleli



Esercitazione


Punti cardinali e rosa dei venti

NOME


CLASSE

DATA


Indica i punti cardinali N – S – E - O




Indica i punti cardinali NE – SE – SO - NO




Indica i punti cardinali ENE – SSE – NNE - OSO




Indica i punti cardinali NNE – ESE – SSO - ONO



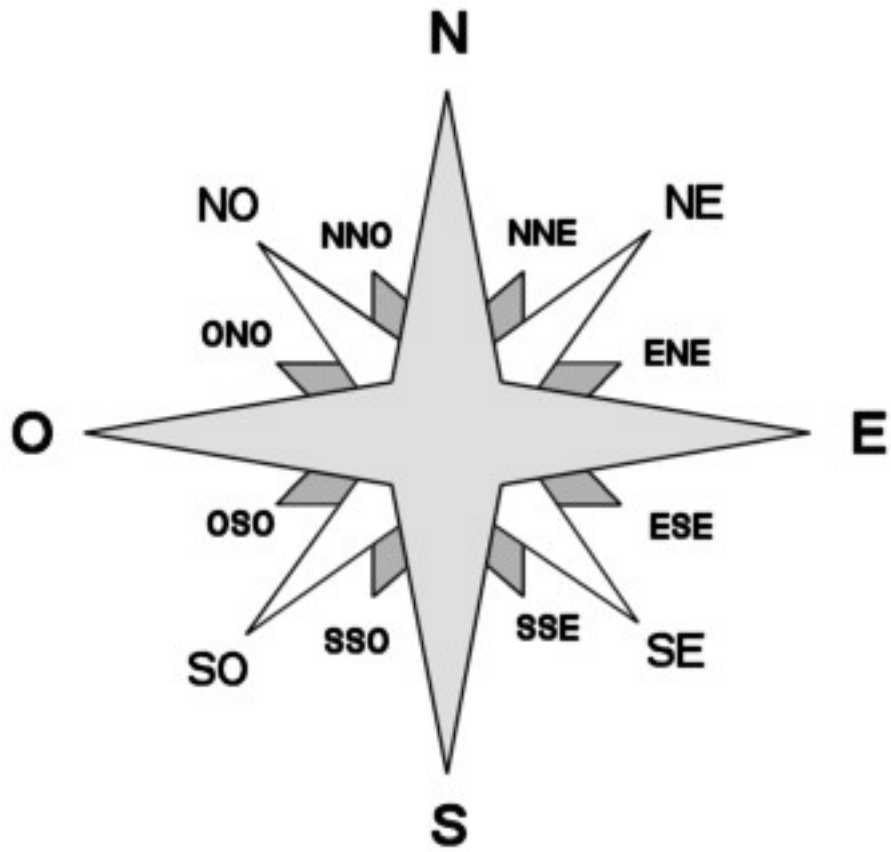
Indica i venti di N – S – E - O



Indica i venti di NE – SE – SO - NO



Punti cardinali



Rosa dei venti:

